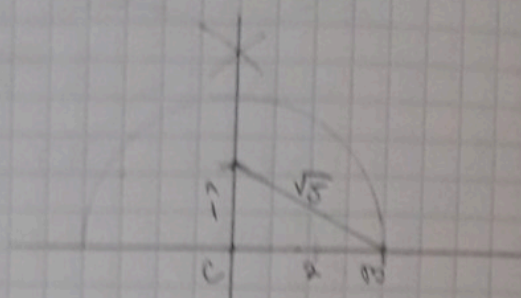
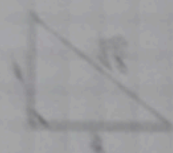




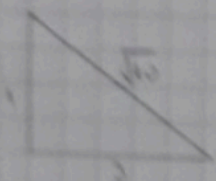

## Примена П.т у задацима код конструкције

\* Питогорину теорему можемо користити за конструкцију дужи чији су нерни бројеви ирационални

\* Пр 1. На бројевној правој одредити тачку  $A(\sqrt{5})$



Пр 1. б)  $B(\sqrt{10})$



Пр 1. в)  $M(\sqrt{17})$

